



IES NEIRA VILAS
XEOGRAFÍA 2º Bacharelato
Exame: 4 de decembro de 2009

Apelidos:
Nome:

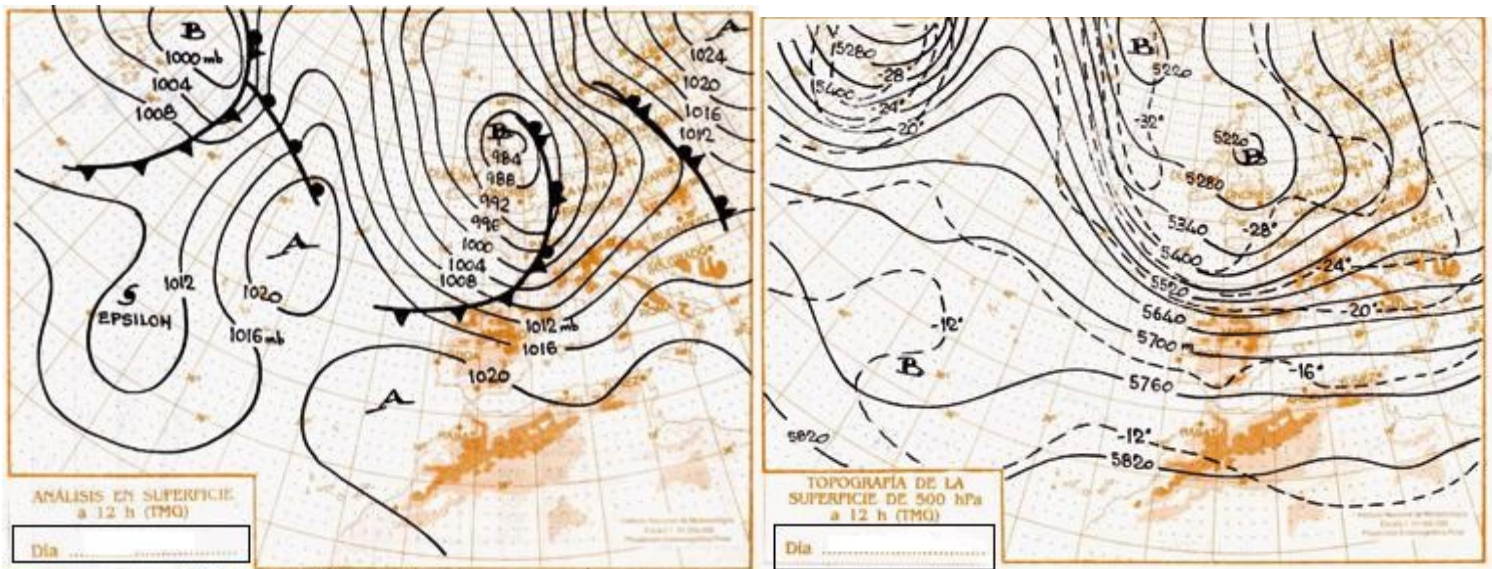
Cualificación:

1.- Define con precisión os seguintes termos, poñendo exemplos cando conveña:
Efecto foehn.- *Jet Stream.*- *Gota fría (DANA).*- *Rambla.*- *Especie xerófila.*- *Isohieta.* (3 valores)

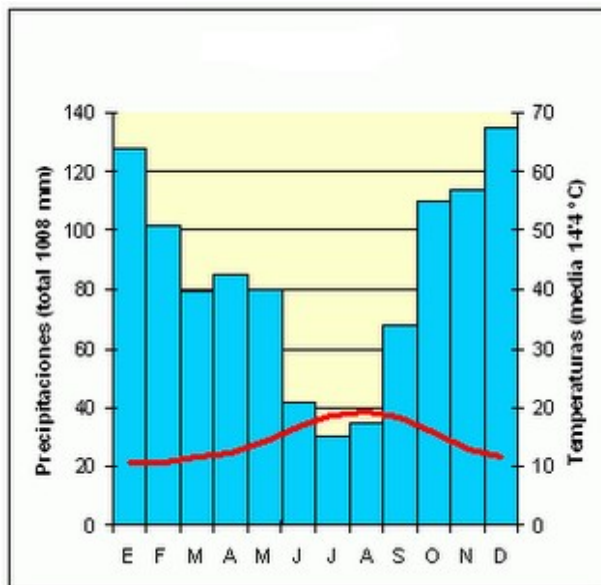
2.- Sitúa correctamente no seguinte mapa físico de España os ríos que se identifican coa tonalidade máis grosa. (1 valor)



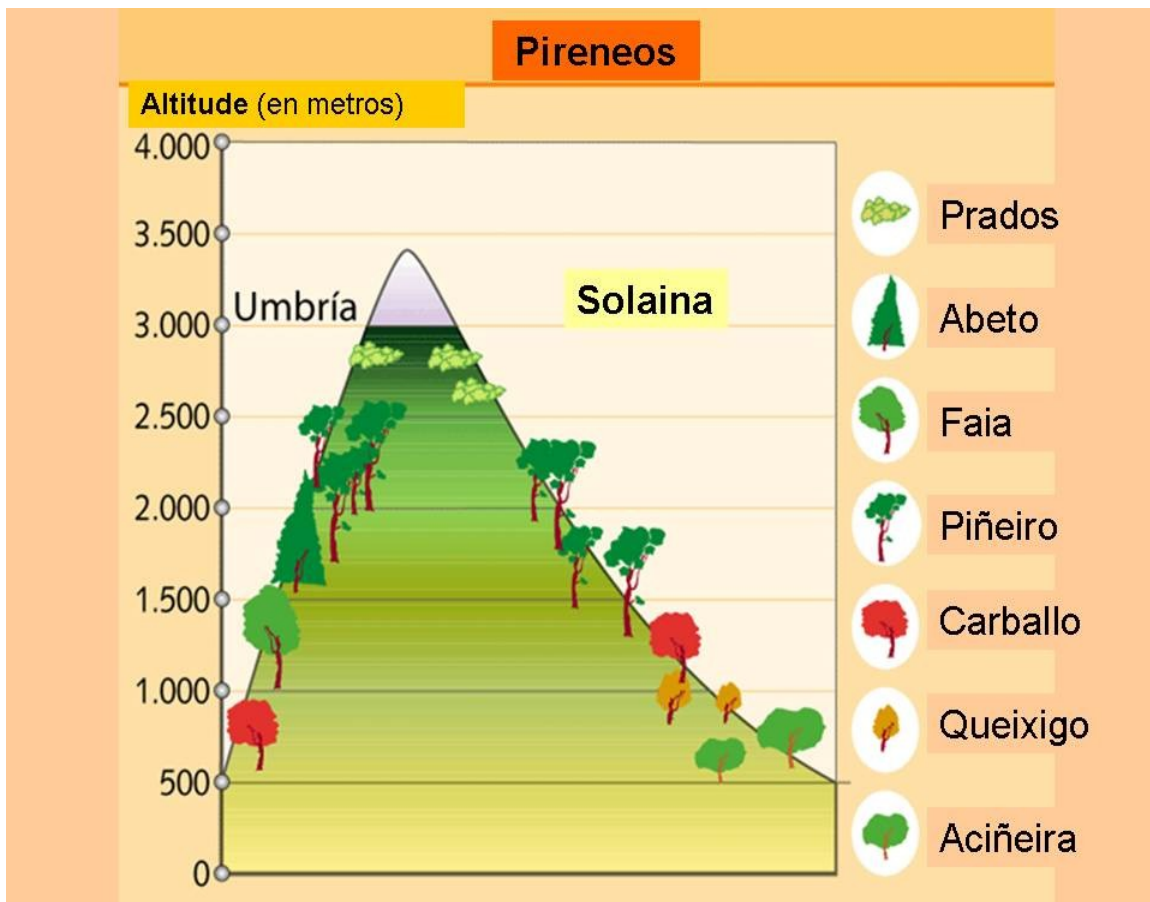
3.- Comenta o seguinte mapa do tempo, tendo en consideración: *centros de acción e localización xeográfica dos mesmos; masas de aire que actúan sobre o noso territorio; situación sinóptica e época do ano á que preferentemente corresponde; tipo de tempo resultante nas distintas áreas da península ibérica, Baleares e Canarias.* (2 valores)



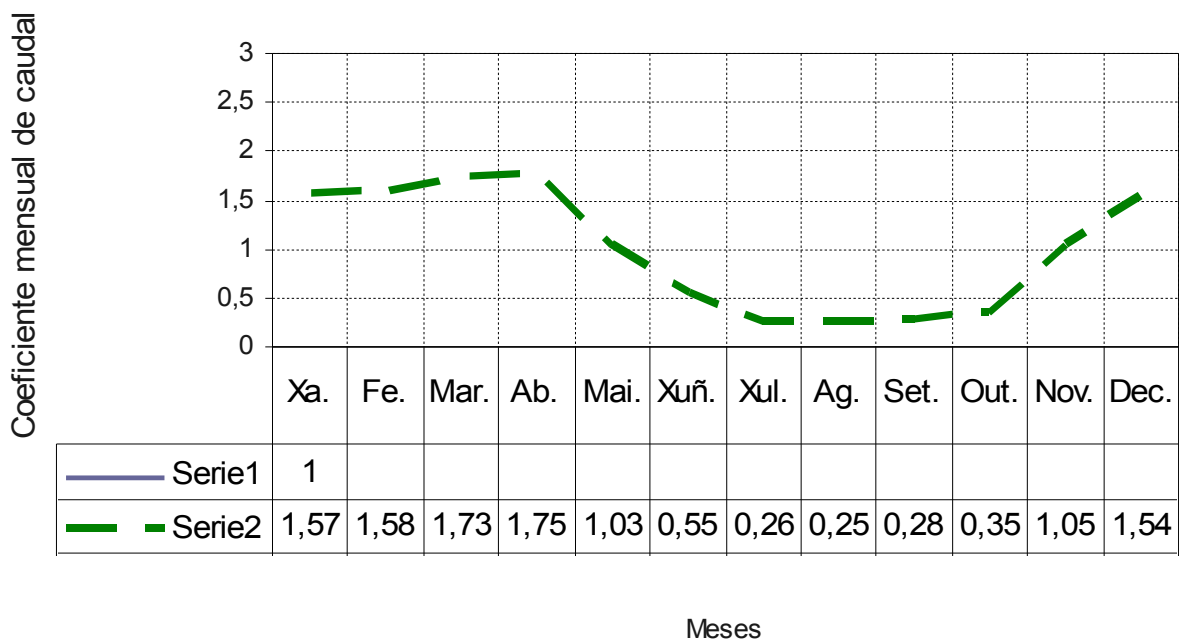
4.- Comenta o seguinte climograma, indicando: *características térmicas e pluviométricas; distribución dos valores ao longo do ano; oscilación térmica e meses de aridez; tipos de tempo que xustifican a distribución destes valores ao longo do ano.* (2 valores)



5.- Comenta a seguinte cliserie, xustificando a distribución por pisos da vexetación e as causas das desigualdades entre umbría e solaina. (1 valor)



6.- Identifica e comenta o réxime hidrográfico e as características do mesmo no seguinte hidrograma. (0,5 valores)



7.- Xustifica as variantes climáticas que se indican no seguinte mapa e a súa causa.
(0,5 valores)

